

La Guerre 1914-1918 Et le front des Vosges.



TOURISME
DE MEMOIRE

14 18
FRONT DES VOSGES
VOGESSEN FRONT

abri mémoire
Uffholtz 1914-18



COORDONNEES

ABRI-MEMOIRE
1 rue du ballon - 68700 UFFHOLTZ
03 89 83 06 91

HORAIRES D'OUVERTURE

septembre à juin
mercredi au vendredi : 9h - 12h30 / 14h - 18h
Samedi : 14h - 18h

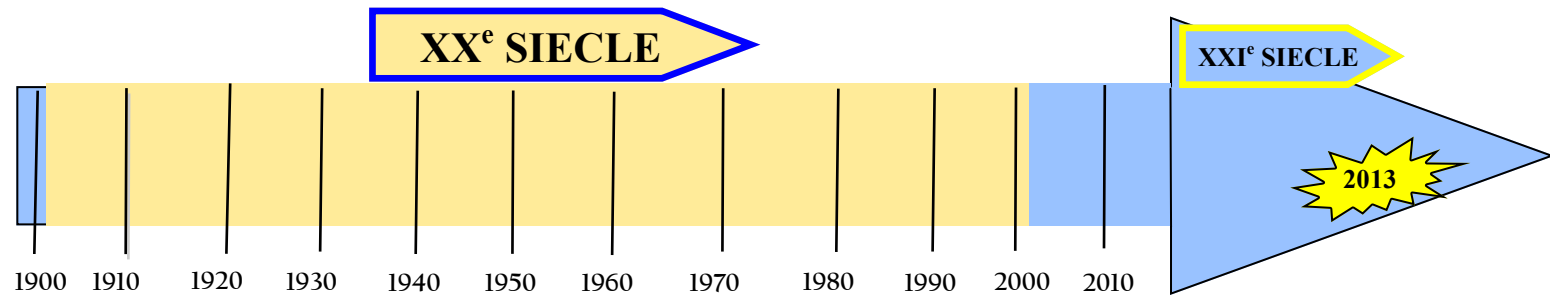
Juillet et août
mardi au vendredi : 9h - 12h30 / 14h - 18h
Samedi et dimanche : 14h - 18h



Se repérer dans le temps et dans l'espace

FRISE CHRONOLOGIQUE

Pour bien connaître, l'histoire de notre soldat, il te faut maîtriser la chronologie.
Ces questions t'aideront à mieux te repérer dans le temps..



La Première Guerre mondiale s'est déroulée du 03 août 1914 au 11 novembre 1918 et a fait plusieurs millions de morts.

1°) Place cet évènement sur la frise chronologique ci-dessus.

2°) Dans quelle décennie se situe cette guerre? (*indice: une décennie correspond à une période de 10 ans comme par exemple 1950 à 1960*)

Réponse:

3°) La Seconde Guerre mondiale (1939-1945) est aussi un conflit important pour notre histoire.
Place ce conflit sur la frise chronologique

4°) Maintenant, place sur la frise chronologique ton année de naissance.

5°) Faire de l'histoire, c'est aussi calculer. Combien d'années séparent la Première Guerre mondiale de ta naissance?

(*Pour réussir, il faut faire une soustraction: année de naissance - 1914 = ? 2001-1914 = 87 ans*)

Réponse:

Que sais-tu de la Première Guerre mondiale ?

Le plus vite possible, trouve dix mots qui te font penser à cet événement.

1ère GUERRE MONDIALE

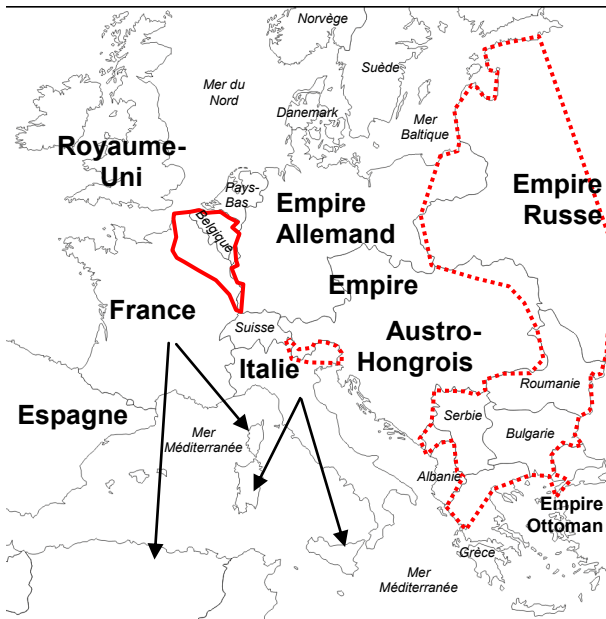
1.
2.
3.
4.
5.
6.
7.
8.
9.
10.



CARTE

Pour bien connaître, l'histoire des soldats de la Première Guerre mondiale, il te faut aussi maîtriser la zone géographiques où se sont déroulés les principaux combats de la Première Guerre mondiale entre la France et l'Allemagne.

Ces questions t'aideront à mieux te repérer dans l'espace.

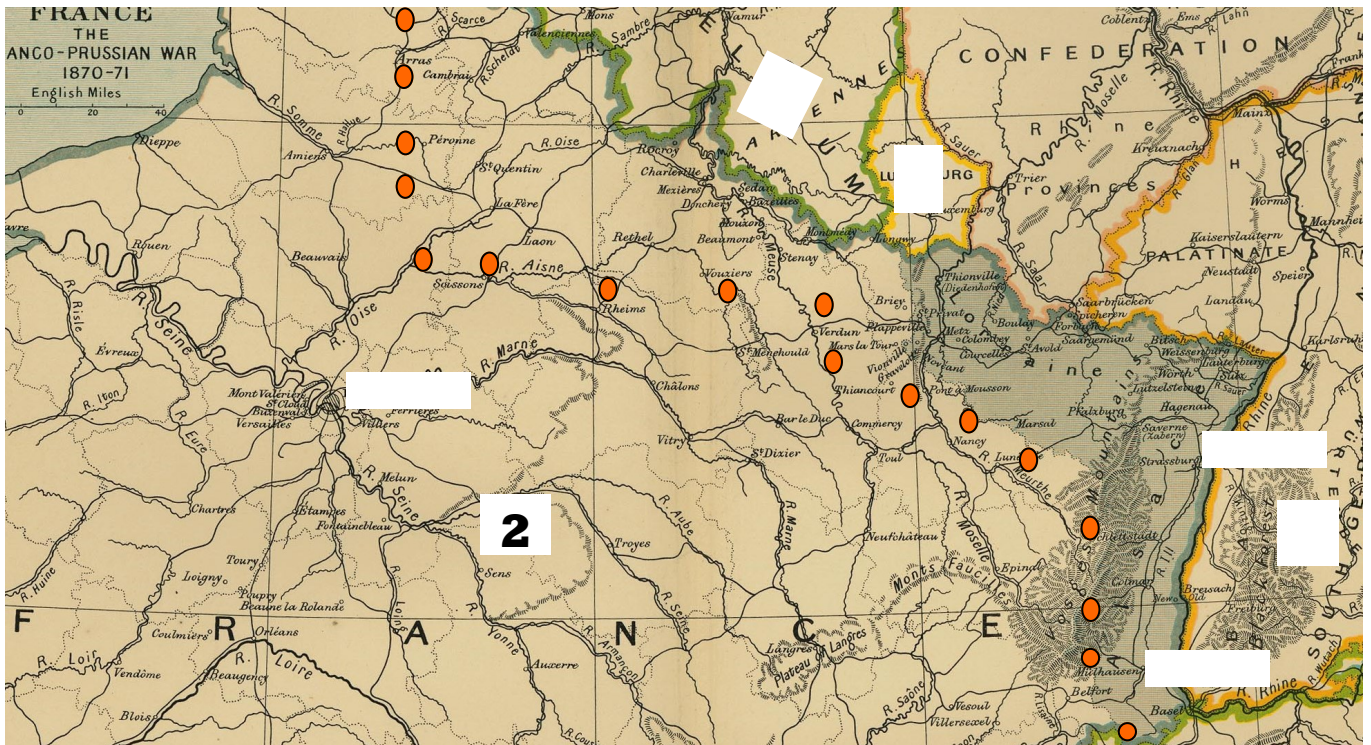


Carte de l'Europe et de la France

Voici une carte de L'Europe en 1914.

Colorie les Etats suivant la légende ci-dessous :

- Etats entrés en guerre du côté de la Triple Entente dès juillet-août 1914, France, Empire Russe, Serbie, Royaume-Uni, Belgique
- Etats entrés en guerre du côté de la Triple Alliance dès juillet- août 1914, Empire Allemand, Empire Austro-Hongrois
- Etats neutres Suisse, Danemark, Suède, Norvège, Pays-Bas, Espagne
- Entrés en guerre du côté de l'entente, Serbie, Roumanie, Grèce, Italie
- Entrés en guerre du côté de l'Alliance, Empire Ottoman, Bulgarie
- Zone appelée front occidental
- Autres zones touchées par la guerre, Italie, orient et front russe



1°) Reconnais-tu les pays situés sur cette carte? Place le numéro du pays au bon endroit.

1: BELGIQUE 2: FRANCE 3: ALLEMAGNE 4: LUXEMBOURG

2°) La France a pour capitale Paris. Place cette ville sur la carte.

3°) La ville mystère : Déchiffre ce code et tu découvriras cette ville à placer sur la carte.



Pour déchiffrer le code, voici la clef:

☝=A ☞=B 🇫🇷=O
☼=U ☼=R
☼=T ✈=G 💧=S

5°) Il te faut maintenant relier les

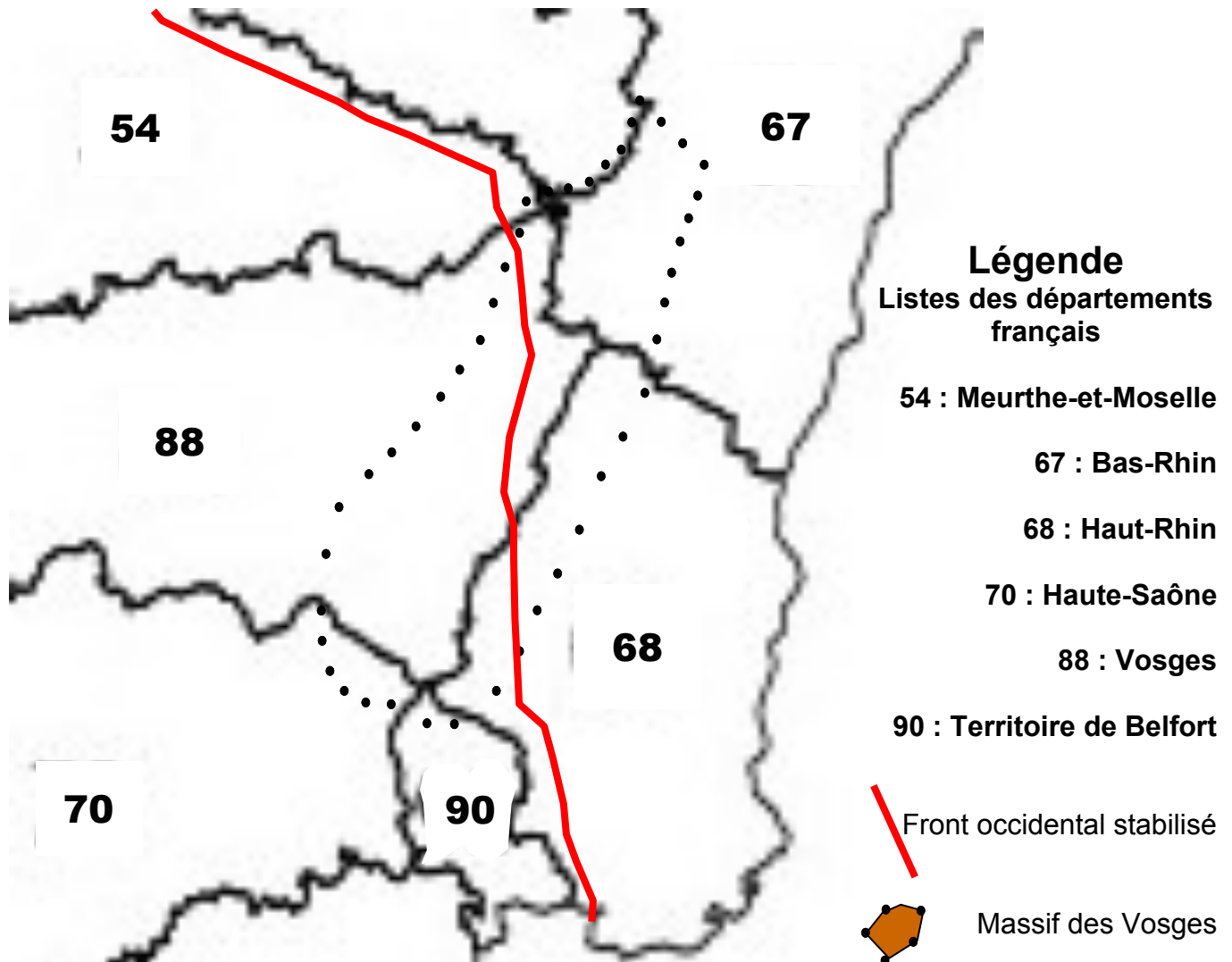
Cette ligne représentée sur la carte ● matérialise ce qu'on appelle le front. Sais-tu ce que c'est?

Réponse:

Le Massif des Vosges aujourd'hui

Voici une carte du nord-est de la France.

Relie les points et colorie en marron l'intérieure de la forme que tu trouveras.



Etude de la Carte

Réponds par Vrai ou par Faux les affirmations suivantes ?

Entoure la bonne réponse


Le massif des Vosges touchent aujourd'hui 8 départements français	Vrai Faux
Le front occidental passait par le départements Haut-Rhin	Vrai Faux
Le Bas-Rhin est un département sur lequel se trouve le massif des Vosges.	Vrai Faux
Le Territoire de Belfort est un département où passait la ligne de front.	Vrai Faux
Les Vosges est aussi le nom d'un département français.	Vrai Faux
Le 88 est le seul département français où la guerre s'est déroulée exclusivement dans les montagnes.	Vrai Faux

Le nom des principaux champs de bataille ont été codé. Déchiffre les codes suivants pour le savoir.



Mots Croisés

Dans quel lieu vivaient des millions de soldats au cours de la Première Guerre mondiale?:
Pour le savoir, complète ce mots croisés.



- 1°) Chef lieu du Bas-Rhin
- 2°) Capitale de l'Allemagne
- 3°) Moyen de transport aérien
- 4°) Synonyme de pièce d'artillerie
- 5°) Antonyme de réussite
- 6°) Cri de joie
- 7°) Lieu d'enseignement
- 8°) Adversaire en temps de guerre
- 9°) Le 11 novembre est son jour



Le réseau des tranchées

Très rapidement, les soldats français et Allemands vont trouver refuge dans des tranchées. Elles vont progressivement constituer un réseau très dense. Ce dessin d'un soldat de la Première Guerre mondiale représente le réseau important de tranchées qui se trouvait vers le sommet du Hartmannswillerkopf.

Entoure sur le plan ce qui évoque le nom de ce lieu.

Que peux-tu dire sur ce plan ?
Relie les bonnes réponses.

- | | | |
|-------------------------------|--------------------------|---------------|
| Le réseau de tranchées | <input type="checkbox"/> | est court |
| Les soldats pouvaient | <input type="checkbox"/> | est dense |
| En regardant ce plan, | <input type="checkbox"/> | s'y perdent |
| ils pouvaient plus facilement | <input type="checkbox"/> | s'y retrouver |

La majorité des soldats français et allemands ont connus l'univers des tranchées. Place les bons numéros sur ce dessin réalisé par JANIN (un poilu qui se trouvait vers Steinbach en 1915) pour comprendre de quoi étaient faites ces tranchées.

- 1 : Terre
- 2 : 2 mètres 50 à 3 mètres
- 3 : Planches de bois

Que peux-tu dire sur cet endroit ? : entoure les bons mots.

Sale Boueux
Étroit Spacieux

